

1.

Talvinen metsä on täynnä erilaisia eläinten jälkiä.

Kenen jalanjäljet ovat kuvassa?

- a. karhun
- b. kissan
- c. jäniksen
- d. oravan




2.

Tänä talvena on ollut pitkä pakkasjakso myös täällä Etelä-Suomessa. Aivan ennätyksiin ei kuitenkaan ole ylletty, sillä pisin yhtämittainen pakkasjakso on ollut Sodankylässä vuosina 1965–1966.

Montako päivää tuolloin pakasti?

- a. 100 päivää
- b. 125 päivää
- c. 146 päivää
- d. 199 päivää



3.

Suomen pisin puu on Punkaharjulla Etelä-Savossa Metsäntutkimuslaitoksen (Metla) mailla kasvava euroopanlehtikuusi (kuvassa).

Kuinka korkea se on?

- a. 34 metriä
- b. 46 metriä
- c. 55 metriä
- d. 63 metriä




4.

Metsäjänis eli jänis (*Lepus timidus*) on jäniseläinten lahkoon kuuluva nisäkäs. Se on 50-60 cm pitkä, painaa 2–6 kiloa ja sen hännän pituus on noin 7 cm. Muistakaapa nämä!

Kuinka vanhaksi metsäjänis voi elää?

- a. jopa 7-vuotiaaksi
- b. jopa 13-vuotiaaksi
- c. jopa 20-vuotiaaksi
- d. jopa 135-vuotiaaksi



5.

Ranuan eläintarhan 24-vuotias karhuvanhus heräsi tällä viikolla uniltaan.

Mutta mikä on karhun nimi?

- a. Ville Vieteri
- b. Urpo-Iisakki
- c. Palle-Jooseppi
- d. Nils Holgersson



6.

Suomalainen kansanruno kertoo:

*Portit Pohjolan näkyvi,
Paistavi pahat veräjät,
Kannet kirjo kiimottavat
Miehen syöjästä kylästä,
Urohon upottajasta.*

Mikä seuraavista on eräs suomalainen revontulten nimitys?

- a. pohjanpalo
- b. veräjänliekki
- c. kirjoneule
- d. urohonpaiste

7.

Kellanvihertävä pajulintu eli uunilintu (*Phylloscopus trochilus*) on Suomen yleisin lintulaji, mutta vaatimattoman ulkonäkönsä ja piileskelevän elämäntapansa ansiosta se ei ole kovin tunnettu.

Paljonko niitä pesii maassamme?

- a. 3-5 miljoonaa
- b. 7-10 miljoonaa
- c. 12-16 miljoonaa
- d. 18-24 miljoonaa



8.

Tapiolanjärvi kuuluu *Hanhijärvi-Keskistenjärvi-Tapiolanjärvi* muodostamaan matalien vesijättöjen järviryhmään. Linnusto on laajojen niittyjen ansiosta edustava, ja alue on myös tärkeä muutonaikainen levähdyspaikka.

Paljonko on Tapiolanjärven pinnan korkeus merenpinnasta?


- a. 52 metriä
- b. 87 metriä
- c. 114 metriä
- d. 211 metriä



9.

**Tulihan kaikki tekstit luettua?
Mikäs onkaan metsäjäniksen la-
tinankielinen nimi?**

- a. Lepus timidus
- b. Lupus lupus
- c. Lipus oidipus
- d. Mokomas lapsus



10.

Ja vielä perinteinen tunnistustehtävä...

Mikä tunnettu eläin on kuvassa?



11.

Extra-kysymys

**Ratkaisee voittajan, jos visa on tasan
10 ensimmäisen kysymyksen jälkeen**

**Kuinka monta metriä on
lyhyimmillään Ylistenjärven ja
Houhajärven välinen etäisyys
linnuntietä?**

